



Prova n. 1

1. Vedi foglio allegato
2. A seguito di un evento straordinario si è verificato l'allagamento di un edificio scolastico. Il candidato indichi e descriva le azioni ed attività da porre in essere per risolvere l'emergenza.
3. La progettazione negli appalti di servizi e forniture. Il candidato descriva gli elaborati che compongono un progetto di appalto di servizi nell'ambito della manutenzione del patrimonio.



- 1) Il candidato illustri come intende organizzare un cantiere su una strada in centro urbano per un intervento urgente di riparazione di un chiusino della rete fognaria, rappresentando anche con schema grafico il corretto posizionamento della segnaletica di cantiere, dei mezzi d'opera e del personale su strada a senso unico alternato con carreggiata residua > 5.6m.



Am

Am

Am

Am


Am

Prova n. 2

- 1) L'amministrazione comunale deve intervenire a seguito di un'improvvisa rottura sull'acquedotto comunale. Tale rottura genera la possibilità di inquinamento dell'acqua potabile distribuita. Il candidato dia evidenza dei principali aspetti e problematiche da affrontare al fine di garantire la risoluzione del problema.
- 2) Vedi foglio allegato
- 3) Deve essere eseguito l'appalto per la manutenzione periodica delle pulizie di edifici scolastici. Il candidato descriva le fasi del processo di gestione necessarie per arrivare all'affidamento.



- 




Feb



Prova n. 3

1. L'Amministrazione comunale deve intervenire a seguito di un piccolo smottamento che ha interessato, in orario notturno, una strada in centro abitato di una frazione montana. Il candidato indichi e descriva le azioni ed attività da porre in essere per risolvere l'emergenza.
2. Il candidato indichi e descriva le procedure di affidamento per l'esecuzione di servizi e forniture, previste dal codice dei contratti pubblici e normativa provinciale, riferite rispettivamente ai seguenti importi €. 30.000,00 ed € 200.000,00
3. Vedi foglio allegato





- 3) Il candidato illustri come intende organizzare un cantiere su una strada in centro urbano per un intervento urgente di riparazione di un chiusino della rete fognaria, rappresentando anche con schema grafico il corretto posizionamento della segnaletica di cantiere, dei mezzi d'opera e del personale su strada a senso unico alternato con carreggiata residua < 5.6m.

